

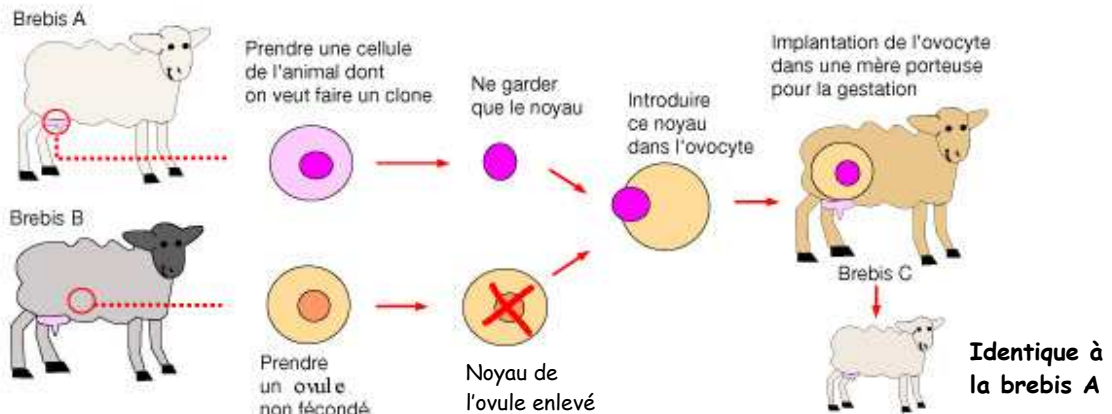


Objectif de connaissances :	Activité 2 : Savoir où est localisée l'information génétique	Date :
Compétence travaillée :	Compétence 3 du socle commun : Raisonner à partir d'une expérience	 



Après analyse de ce document, explique dans quelle partie de la cellule se localise l'information génétique. Tu dois détailler clairement et de façon précise ton raisonnement. (Ra).....

.....



.....

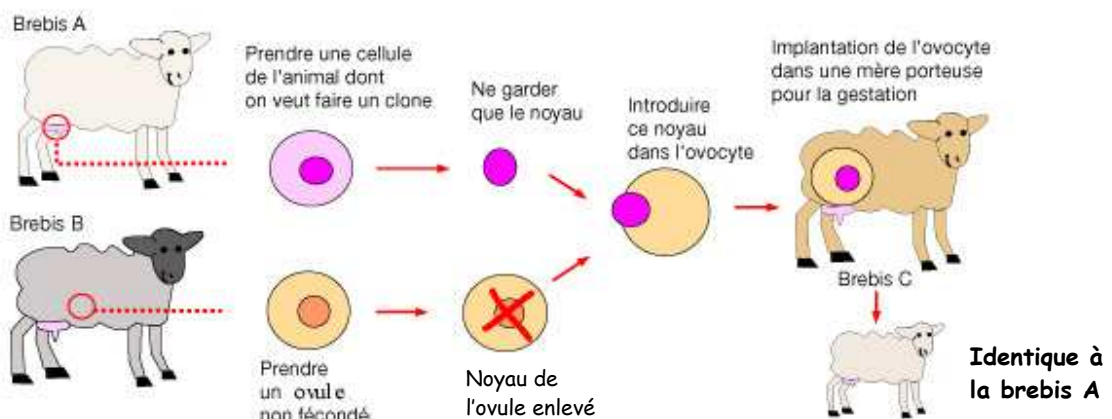
.....

.....

.....

.....

Objectif de connaissances :	Activité 2 : Savoir où est localisée l'information génétique	Date :
Compétence travaillée :	Compétence 3 du socle commun : Raisonner à partir d'une expérience	 



Après analyse de ce document, explique dans quelle partie de la cellule se localise l'information génétique. Tu dois détailler clairement et de façon précise ton raisonnement. (Ra).....

.....

.....

.....

.....

.....

.....